



ALUMNO:.....

1. SUMAS Y RESTAS RÁPIDAS.

- $100 + 100 + 50 + 20 + 7 =$
- $100 + 100 + 100 + 20 + 20 + 9 =$
- $500 + 200 + 20 + 10 + 4 =$
- $500 + 500 + 200 + 50 =$
- $800 + 800 - 200 - 10 =$
- $1500 - 500 - 50 =$
- $2000 - 1000 - 700 =$

2. OBSERVA LA SIGUIENTE TABLA.

100		120		140		160			190
200	210		230				270		
300					350			380	
400		410							
500									
600	610				650			680	
700				740					
800							860		
900					950			980	
1.000		1.020				1.060			1.090

a. ESCRIBE LOS NÚMEROS QUE ESTÁN OCULTOS (CASILLEROS PINTADOS).

.....

.....

b. COMPLETA CON LOS NÚMEROS QUE FALTAN.

3. LEO Y ESCRIBO.

CUATROCIENTOS DOS

NOVECIENTOS NOVENTA Y NUEVE

OCHOCIENTOS CINCUENTA

MIL DOSCIENTOS CINCUENTA Y DOS

MIL QUINIENTOS

4. ORDENA LOS NÚMEROS ANTERIORES DE **MAYOR A MENOR**.

5. COMPLETA EL ANTERIOR Y POSTERIOR.

ANTERIOR	NÚMERO	POSTERIOR
	1.020	
	1.532	
	1.003	
	997	
	600	

a. ESCRIBE EN LETRAS LOS SIGUIENTES NÚMEROS:

532


1.003

569

1.020

6. CALCULA MENTALMENTE

Número	+10	+100	+200	+1.000
387				
526				
680				
125				
465				
227				
709				



7. COMPLETÁ LAS SERIES CON LOS NÚMEROS QUE FALTAN:

955				959					964
-----	--	--	--	-----	--	--	--	--	-----

1.681				1.684			1.687		
-------	--	--	--	-------	--	--	-------	--	--

2.850		2.852							2.860
-------	--	-------	--	--	--	--	--	--	-------

8. ¡UN POCO DE DINERO!

DIBUJO LOS BILLETES DE \$1000, \$500, \$200, \$100, \$10 Y MONEDAS DE \$ 1 QUE SE NECESITAN PARA OBTENER EL SIGUIENTE DINERO

\$ 1.240 =

\$ 972 =

\$ 1.058 =

\$ 899 =

a. Resuelve.

➤ ¿CARO TIENE 6 BILLETES DE  Y 10 BILLETES  DE CUÁNTO DINERO TIENE? DIBUJA.

RESPUESTA:.....

➤ ALMA TIENE \$2.000 Y GASTÓ \$ 1.400. ¿CUÁNTO LE QUEDA? DIBUJA.




RESPUESTA:.....

- LUCÍA TIENE UN BILLETE DE \$1.000, UNO DE \$ 500 Y CUATRO BILLETES DE \$50. ¿CUÁNTO DINERO TIENE? DIBUJA.

RESPUESTA:.....

- 9. DIBUJA Y ESCRIBI EL CALCULO QUE HICISTE.


ROMÁN CERRÓ SU CAJA DEL DÍA CON:

- 14 BILLETES DE 
- 8 BILLETES DE 
- 20 BILLETES DE 

.....+.....+.....=

¿CUÁNTO DINERO HAY EN TOTAL?

- 10. DIBUJA CUÁNTOS BILLETES Y MONEDAS NECESITAS PARA PAGAR JUSTO ESTOS JUGUETES.

JUGUETE	PRECIO	FORMAS DE PAGO
	\$689	
	\$ 1.563	
	\$ 835	
	\$1.999	

- Ⓜ ¿CUÁL ES EL JUGUETE **MÁS BARATO**?

- Ⓜ ¿CUÁL ES EL JUGUETE **MÁS CARO**?

- Ⓜ ORDENA LOS PRECIOS DE LOS JUGUETES DE **MENOR A MAYOR**.

- Ⓜ MARCOS, QUIERE COMPRAR **LA PELOTA DE BÁSQUET Y EL AUTO**. ¿CUÁNTO DINERO NECESITA?

RESPUESTA:.....

- Ⓜ MILAGROS TIENE \$2.000, ¿LE ALCANZA PARA COMPRARSE UN **OSO** Y UN **TREN**?

.....

- Ⓜ ¿CUÁNTO DINERO LE FALTA A MILAGROS?

.....

